

CENTRO RECLUTAMENTO GUARDIA DI FINANZA

ISTRUZIONI PER LO SVOLGIMENTO DELLA PROVA

AVVERTENZE

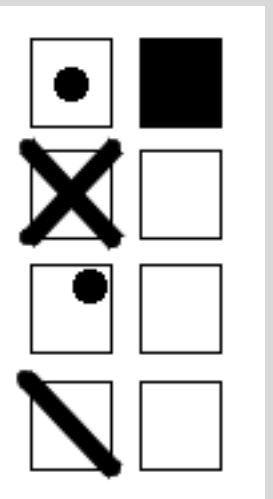
- ❑ LA BUSTA CONTENENTE IL LIBRETTO TEST NON DEVE ESSERE APERTA PRIMA DELL'ORDINE DI APERTURA;
- ❑ IL LIBRETTO TEST DEVE ESSERE RESTITUITO INTEGRO al termine della prova;
- ❑ SUL "FOGLIO RISPOSTE" sono riportate 120 caselle, numerate progressivamente da 1 a 120.
- ❑ LE RISPOSTE vanno fornite annerendo unicamente sul "foglio risposte" uno dei quadratini della riga numericamente corrispondente alla relativa domanda del questionario dal nr. 1 al nr. 100.

Conduzione della prova

- ❑ LEGGERE IL QUESITO SUL LIBRETTO TEST;
- ❑ FORNIRE LA RISPOSTA SULL'APPOSITO "FOGLIO RISPOSTE" ANNERENDO IN MANIERA CORRETTA, COSI' COME RIPORTATO NELL'ESEMPIO SUCCESSIVO, CON LA PENNA NERA, IL RIQUADRO che contiene la lettera corrispondente alla risposta ritenuta esatta.

Attenzione a non uscire dal quadratino – Esempio:

MODO CORRETTO DI ANNERIRE



MODO ERRATO DI ANNERIRE









NOTE:

Tenere presente che:











- ❑ NON SONO AMMESSE CORREZIONI di alcun genere;
- ❑ IL "FOGLIO RISPOSTE" NON DEVE ESSERE PIEGATO O ROVINATO;
- ❑ COSTITUISCE ERRORE GENERANDO PUNTEGGIO UGUALE A 0 (ZERO):
 - LA RISPOSTA SBAGLIATA;
 - LA RISPOSTA MANCANTE;
 - L'INDICAZIONE DI PIU' RISPOSTE ALLA STESSA DOMANDA.

LIBRETTO TIPO 1









LIBRETTO TIPO 1

	1)	Qual è il file manager predefinito su macOS?	a) Nautilus.	b) Dolphin.	c) Explorer.	d) Finder.
	2)	Come si può passare da Windows 11 S a una versione completa?	a) In Impostazioni > Aggiornamento e sicurezza > Attivazione Trova la sezione Passa a Windows 10 Home o Passa a Windows 10 Pro e seleziona il collegamento Vai allo Store.	b) Utilizzando un comando da terminale Shell.	c) Acquistando una licenza separata.	d) Aggiornando tramite Windows Update.
	3)	Qual è l'applicazione per la gestione degli eventi predefinita su macOS?	a) Promemoria.	b) Calendario.	c) Things.	d) Fantastical.
	4)	Che cos'è un'app di posta elettronica?	a) Un tipo di programma installato su macchine server.	b) Un'app che gestisce le credenziali.	c) Un tipo di formato di email.	d) Un'app che gestisce e invia e-mail.
	5)	Quale comando permette di vedere i log di sistema in Linux?	a) dmesg.	b) cut /var/log/messages.	c) journalctl.	d) tail /var/log/syslog.
	6)	Cos'è un SSL certificate?	a) Un formato di immagine.	b) Un tipo di identificazione per la pubblica amministrazione.	c) Un tipo di virus.	d) Un certificato che protegge la comunicazione tra il browser e il server.
	7)	Quale software è utilizzato per l'editing di immagini?	a) Adobe Photoshop.	b) VLC Media Player.	c) Google Chrome.	d) Microsoft Word.
	8)	Qual è il risultato in binario dell'operazione decimale 29-8?	a) 10101.	b) 10111.	c) 100101.	d) 101001.





LIBRETTO TIPO 1

	9) Come si esegue un comando come super user in Ubuntu?	a) runuser.	b) sudo.	c) su.	d) root.
	10) Quale formato video è supportato nativamente da macOS per la riproduzione video?	a) MKV.	b) WMV.	c) AVI.	d) MOV.
	11) Ai sensi dell'art. 63 della Costituzione italiana chi presiede il Parlamento quando questo si riunisce in seduta comune?	a) Il segretario del partito di maggioranza.	b) Il Presidente del Senato della Repubblica.	c) Il Presidente della Camera dei deputati.	d) Il Presidente del Consiglio dei ministri.
	12) In base all'art. 22 della Costituzione italiana si può essere privati della capacità giuridica per motivi politici?	a) No, mai.	b) Sì, ma solo quando i motivi politici perseguono scopi contrari alla Costituzione.	c) Sì, ma solo quando i motivi politici perseguono scopi eversivi.	d) Sì, sempre.
	13) Dispone l'art. 116 della Costituzione che alcune Regioni dispongono di forme particolari di autonomia; quale, tra le seguenti NON possono essere annoverate tra le stesse?	a) Sardegna.	b) Sicilia.	c) Basilicata.	d) Valle d'Aosta.
	14) A norma dell'art. 94 della Costituzione, entro quale termine il Governo si presenta alla Camera dei deputati per ottenerne la fiducia?	a) Dieci giorni dalla sua formazione.	b) Quindici giorni dalla sua formazione.	c) Sessanta giorni dalla sua formazione.	d) Trenta giorni dalla sua formazione.
	15) Quanti sono complessivamente, tra i vari obiettivi, i target che si propone di raggiungere l'Agenda 2030?	a) 105.	b) 56.	c) 80.	d) 169.
	16) In quale città europea ha sede il Segretariato internazionale dell'Assemblea parlamentare dell'OSCE?	a) Copenaghen.	b) Luxor.	c) Porto Said.	d) Giza.
	17) Quale dei seguenti organi principali dell'ONU decide sull'ammissioni di nuovi membri?	a) Il Consiglio di sicurezza.	b) Il Consiglio economico e sociale.	c) La Corte internazionale di giustizia.	d) L'Assemblea generale.
	18) A norma dell'art. 94 della Costituzione, entro quale termine deve essere posta in discussione la mozione di sfiducia nei confronti del Governo firmata da almeno un decimo dei senatori?	a) Non prima di quindici giorni dalla sua presentazione.	b) Non prima di un giorno dalla sua presentazione.	c) Necessariamente lo stesso giorno della sua presentazione.	d) Non prima di tre giorni dalla sua presentazione.






LIBRETTO TIPO 1

	19) Ai fini del GDPR il "trattamento" comprende le operazione o l'insieme di operazioni, compiute con o senza l'ausilio di processi automatizzati e applicate a dati personali o insiemi di dati personali:	a) Con esclusione dell'estrazione, consultazione e uso.	b) Come la strutturazione e la conservazione.	c) Con esclusione della comunicazione mediante trasmissione, diffusione.	d) Con esclusione della raccolta, registrazione e organizzazione.
	20) Stabilisce l'art. 116 della Costituzione che, a parte le condizioni particolari di autonomia di cui godono le Regioni a statuto speciale, ulteriori forme e condizioni particolari di autonomia, concernenti le materie di cui al terzo comma dell'articolo 117 e le materie indicate dal secondo comma del medesimo articolo alle lettere l), limitatamente all'organizzazione della giustizia di pace, n) e s), possono essere attribuite ad altre Regioni; con quali modalità?	a) Con legge dello Stato, su iniziativa della Regione interessata, anche senza sentire gli enti locali, nel rispetto dei principi di cui all'articolo 119.	b) Con legge costituzionale, su iniziativa della Regione interessata, sentiti gli enti locali, nel rispetto dei principi di cui all'articolo 119.	c) Con legge dello Stato, su iniziativa della Regione interessata, sentiti gli enti locali, anche senza il rispetto dei principi di cui all'articolo 119.	d) Con legge dello Stato, su iniziativa della Regione interessata, sentiti gli enti locali, nel rispetto dei principi di cui all'articolo 119.
	21) Chi era Giovanni Giolitti (1842-1928)?	a) L'operaio anarchico che uccise il Re d'Italia Umberto I.	b) Un famoso industriale.	c) Un famoso futurista.	d) Un liberale piemontese che divenne presidente del Consiglio nel 1903.
	22) Cosa organizzò Mussolini il 28 ottobre 1922?	a) La Campagna d'Etiopia.	b) Le prime spedizioni punitive.	c) La Secessione dell'Aventino.	d) La Marcia su Roma.
	23) Nel 1914 quale delle seguenti potenze aveva dei possedimenti coloniali in Africa?	a) Spagna.	b) Svizzera.	c) Grecia.	d) Olanda.
	24) Quale delle seguenti affermazioni sulla "Belle époque" è vera?	a) La crisi di sovrapproduzione di fine Ottocento fu chiamata anche "Piccola depressione".	b) Buona parte della popolazione si trasferì dalle città alle campagne.	c) Tra la gente vi era poca fiducia nel progresso.	d) La cultura, lo spettacolo, i giornali cominciarono a rivolgersi anche alla gente comune.
	25) La doppia risoluzione della Società delle Nazioni ha auspicato la trasformazione delle colonie:	a) In Stati federati.	b) In mandati.	c) In nuove province inglobate negli Stati colonialisti.	d) In nazioni indipendenti.
	26) Che cos'è la disobbedienza civile?	a) La libertà di un popolo di scegliere il proprio governo.	b) Il rifiuto di un popolo di obbedire a una legge ingiusta, accettando le pene conseguenti.	c) Una nuova forma di controllo economico delle colonie.	d) Una forma di lotta condotta per mezzo di imboscate, sabotaggi, attacchi a sorpresa.










LIBRETTO TIPO 1

	27) In quale tra i seguenti Paesi UE non viene usato l'euro?	a) Danimarca.	b) Estonia.	c) Finlandia.	d) Cipro.
	28) Qual è la corretta sequenza cronologica dei seguenti avvenimenti relativi all'Italia fascista?	a) Delitto Matteotti; Leggi fascistissime; Marcia su Roma; Conquista dell'Etiopia; Patti lateranensi.	b) Leggi fascistissime; delitto Matteotti; Conquista dell'Etiopia; Patti lateranensi; Marcia su Roma.	c) Marcia su Roma; delitto Matteotti; Leggi fascistissime; Patti lateranensi; conquista dell'Etiopia.	d) Conquista dell'Etiopia; Patti lateranensi; Marcia su Roma; delitto Matteotti; Leggi fascistissime.
	29) Quale delle seguenti affermazioni è falsa? Nel 1917 i Bolscevichi in Russia:	a) Erano guidati da Kerenski.	b) Volevano una rivoluzione proletaria in tutta Europa.	c) Erano guidati da Lenin.	d) Volevano il proletariato al potere.
	30) Quale di queste affermazioni sulla situazione nei Balcani alla vigilia della Prima guerra mondiale è vera?	a) Nei Balcani, la Germania promuoveva l'indipendenza dei popoli slavi.	b) Dopo le guerre balcaniche, si acuirono i contrasti tra l'Austria e la Serbia da una parte e la Russia dall'altra.	c) Nei Balcani si concentravano molte tensioni.	d) L'Impero ottomano aveva aumentato la sua influenza nella regione balcanica.










LIBRETTO TIPO 1

	31)	<p>Individuare l'alternativa che meglio sintetizza il testo di Elena Basile ("Parlano di guerra etica per coprire gli interessi", quotidiano "Il Fatto", 25 giugno 2024). La nomina di Mark Rutte a segretario generale della Nato non è un buon segno. I nostri editorialisti senza vergogna lo hanno definito "europeista". Di fatto l'Olanda nell'Ue ha ereditato il progetto britannico inteso a eliminare lo slancio comunitario di Ventotene e a trasformare l'Ue in un mercato allargato a beneficio dei creditori. Dal punto di vista della sicurezza, l'Europa è per Rutte essenzialmente un vassallo degli Stati Uniti. È patetico che Mario Draghi o Enrico Letta, con il loro servilismo atlantico, abbiano potuto nutrire ambizioni di incarichi Nato. L'Italia come la Germania è una potenza sconfitta della Seconda guerra mondiale. A noi toccano le basi militari Nato, ma non la voce in capitolo. Gli olandesi, i danesi, i nordici sono gli alleati fidati.</p>	<p>a) Mark Rutte nuovo segretario generale Nato non è buon segno. Gli editorialisti lo hanno definito "europeista". Ma l'Olanda mira ad annullare lo slancio di Ventotene e a trasformare l'Ue in un mercato a beneficio dei debitori. Per la sicurezza, l'Europa è per Rutte un vassallo degli Usa. È patetico che Draghi o Letta abbiano potuto nutrire ambizioni di incarichi Nato. L'Italia come la Germania è una potenza sconfitta in guerra. A noi toccano le basi militari Nato, ma non la voce in capitolo. Gli olandesi, i danesi, i nordici sono gli alleati fidati.</p>	<p>b) La nomina di Rutte a segretario della Nato non è buon segno. I nostri editorialisti lo hanno definito "europeista". Di fatto l'Olanda sta attuando il progetto britannico per trasformare l'Ue in un mercato. Dal punto di vista della sicurezza, l'Europa è per Rutte un vassallo degli Usa. È patetico che Mario Draghi o Gianni Letta, con il loro servilismo atlantico, abbiano potuto nutrire ambizioni di incarichi Nato. L'Italia è una potenza sconfitta della guerra mondiale. A noi toccano le basi militari Nato, ma non la voce in capitolo. Gli olandesi, i belgi, i nordici sono alleati fidati.</p>	<p>c) La nomina di Mark Rutte a segretario generale della Nato non è un buon segno. I nostri editorialisti lo hanno definito "europeista". Ma l'Olanda attua il progetto britannico per eliminare Ventotene e trasformare l'Ue in un mercato a beneficio dei creditori. Sulla sicurezza, l'Europa è per Rutte un vassallo degli Usa. È patetico che Draghi o Letta, con il servilismo atlantico, abbiano potuto ambire ad incarichi Nato. L'Italia come la Germania è una potenza sconfitta della Seconda guerra mondiale. A noi toccano le basi Nato, ma non la voce in capitolo. Gli olandesi, i danesi, i nordici sono alleati fidati.</p>	<p>d) Non è buon segno la nomina di Rutte a segretario della Nato. I nostri editorialisti lo hanno definito "europeista". Di fatto l'Olanda nell'Ue ha ereditato il progetto britannico per eliminare Ventotene e trasformare l'Ue in un mercato. L'Europa della sicurezza è per Rutte un vassallo Usa. È patetico che Draghi o Letta abbiano potuto nutrire ambizioni di incarichi Onu. L'Italia è una potenza sconfitta della Prima guerra mondiale. A noi toccano le basi militari Nato, ma non la voce in capitolo. Gli olandesi, i danesi, i nordici sono gli alleati fidati.</p>
	32)	<p>"zuccherato" è il contrario di:</p>	<p>a) "smanceroso".</p>	<p>b) "dolciastro".</p>	<p>c) "rude".</p>	<p>d) "stucchevole".</p>
	33)	<p>Come si rende in italiano l'anglicismo "buyer"?</p>	<p>a) Matto.</p>	<p>b) Compratore.</p>	<p>c) Venditore.</p>	<p>d) Negozio.</p>
	34)	<p>Come si rende in italiano l'acronimo inglese "CFO"?</p>	<p>a) Amministratore delegato.</p>	<p>b) Oggetto volante non identificato.</p>	<p>c) Responsabile del marketing.</p>	<p>d) Responsabile delle finanze.</p>
	35)	<p>Cosa significa circense?</p>	<p>a) Inerente al circo.</p>	<p>b) Denominazione dei luoghi intorno al Circeo.</p>	<p>c) Che non crede in Dio.</p>	<p>d) Senza morale.</p>








LIBRETTO TIPO 1

	36) Cosa significa empirico?	a) Che appartiene a tutti.	b) Che non è mai stato aperto.	c) Che prescinde i dati dell'esperienza.	d) Fondato sui dati dell'esperienza e della pratica.
	37) 1. vicepresidente; 2. disamorare; 3. sottostare. 4. zuccherare. In quale punto è presente una parola che contiene contemporaneamente un prefisso e un suffisso?	a) Al punto 4.	b) Al punto 3.	c) Al punto 1.	d) Al punto 2.
	38) Nella frase " ho visitato la città di Berlino ", trova il nome comune:	a) Città.	b) La.	c) Io (soggetto sottinteso).	d) Berlino.
	39) "Checchè tu ne dica, è una brava persona", "Checchè" cos'è?	a) Pronome indefinito.	b) Pronome identificativo.	c) Aggettivo indefinito.	d) Aggettivo identificativo.
	40) Si dicono sostantivate le parole che appartengono a parti del discorso diverse dal nome e svolgono la funzione di nome. In quale frase è l'aggettivo a sostantivare una parola?	a) Sul volto si dipinse un oh! di meraviglia.	b) Dormire ti farà sicuramente bene.	c) Mi hai stancato con tutti questi ma!	d) Vogliono sempre sapere il perché delle cose.
	41) Nella frase "era molto scoraggiato per aver perso denaro in una causa legale e aveva cominciato ad alzare il gomito molto più di quanto giovasse alla sua salute", i verbi "era scoraggiato", "aveva cominciato", a che tempo verbale sono?	a) Passato remoto.	b) Imperfetto.	c) Trapassato prossimo.	d) Passato prossimo.
	42) Nella frase "i soldi non gli sono mai mancati", "sono mancati" è?	a) Intransitivo.	b) Transitivo.	c) Servile.	d) Ausiliare.
	43) Esiste il tempo passato del modo imperativo?	a) Sì, sempre.	b) Solo per i verbi servili.	c) Solo per i verbi "essere" e "avere".	d) No, mai.
	44) Quale frase contiene un errore di ortografia?	a) Adoro il tuo giardino perchè ho sempre desiderato un'amaca.	b) Al matrimonio di tuo fratello ho assaggiato per la prima volta un'ostrica.	c) Nel settore pubblicitario un immagine convincente è fondamentale.	d) I problemi fisici di mia madre derivano da un accumulo di stress.








LIBRETTO TIPO 1

	45) Individuare tra i seguenti sostantivi quello ortograficamente NON corretto.	a) Castrazione.	b) Progetto.	c) Anfiteatro.	d) Architettura.
	46) Quale frase contiene un errore di ortografia?	a) L'opera ottocentesca non è estranea alle raffigurazioni romantiche della bellezza.	b) Le prime avvisaglie di un culto dell'eccezionale si erano avute con il dandismo.	c) La sorte della bellezza è di trovare il suo compimento non nella passione, ma nella morte per amore.	d) Durante il Romanticismo il nesso tra bellezza e morte viene accentuato in chiave pessimistica. .
	47) Individuare la corretta divisione in sillabe della parola: costernazione.	a) Co-ster-na-zione.	b) Co-ster-na-zi-o-ne.	c) Co-ster-na-zio-ne.	d) Co-st-er-na-zio-ne.
	48) Individuare la corretta divisione in sillabe della parola: stereometria.	a) Ste-re-ome-tri-a.	b) Ste-reo-me-tri-a.	c) Ste-re-o-me-tri-a.	d) Ste-reo-me-tria.
	49) Con riferimento all'accento tonico, indicare in quale frase la parola tra virgolette è scritta correttamente.	a) Su tutta la regione soffiano per sei mesi all'anno "vènti".	b) Una persona "coltà" non può trascurare le materie scientifiche.	c) Su questo tema dobbiamo "pòrci" almeno qualche domanda.	d) Mi era piaciuta quella bevanda al gusto di "pésca".
	50) Nel periodo "Non avendo fatto colazione, Gabriele si sentì male a metà mattina" la proposizione subordinata "Non avendo fatto colazione" è:	a) Modale.	b) Temporale.	c) Finale.	d) Causale.
	51) Nel periodo "I Romani promulgarono le leggi delle dodici tavole, che ancora oggi sono la base del diritto pubblico e privato." la proposizione "che ancora oggi sono la base del diritto pubblico e privato" è:	a) Relativa propria.	b) Comparativa.	c) Oggettiva.	d) Soggettiva.
	52) Nel periodo "Questo per me è importante, che si parli con franchezza." la proposizione "che si parli con franchezza" è:	a) Oggettiva.	b) Consecutiva.	c) Relativa.	d) Dichiarativa.
	53) In quale delle seguenti frasi è presente un complemento di pena?	a) Quell'uomo suscita molta compassione.	b) L'automobilista ha ricevuto una multa di 100 euro.	c) Dovrai attenerti al regolamento se non vuoi essere squalificato.	d) Verrà punito per quel furto.










LIBRETTO TIPO 1

	54) Quale complemento "determina il significato del predicato indicando l'oggetto dell'azione, cioè la persona, l'animale o la cosa su cui ricade l'azione compiuta dal soggetto"?	a) Oggetto.	b) Termine.	c) Specificazione.	d) Predicativo del soggetto.
	55) In quale delle seguenti frasi è presente un complemento di compagnia?	a) Non si riesce a dormire con questo rumore.	b) Gli antichi accendevano il fuoco con la pietra focaia.	c) I giovani trascorrono il tempo con i coetanei.	d) Mi ha abbracciato con grande slancio.
	56) He ___ the clothes currently.	a) ironed.	b) irons.	c) is ironing.	d) will iron.
	57) They missed ___ train.	a) they're.	b) them.	c) theirs.	d) their.
	58) Is this ___ notebook?	a) you're.	b) your.	c) you.	d) yours.
	59) What's the synonym of "blunt"?	a) Acute.	b) Dull.	c) Sharp.	d) Keen.
	60) Microgrids currently provide less than 0.3% of the US's electricity but interest in them is growing for both environmental and practical reasons. The microgrid market is expected to grow significantly in the next years, particularly in Asia-Pacific and North America, with annual capacity installation and spending expected to climb fivefold between 2018 and 2027. What is expected to happen to the microgrid market in the coming years?	a) It is expected to grow significantly, particularly in Asia-Pacific and North America.	b) It will remain stable with no significant changes.	c) It will be replaced by conventional power grids.	d) It will decline as other energy sources become more popular.









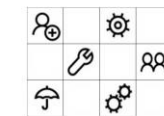

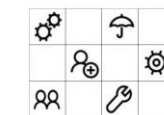
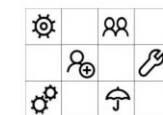






LIBRETTO TIPO 1

	<p>61) "But while the actress conceded that she had wished to 'extend' herself 'and do other things,' she said that she couldn't knock the image because they were 'wonderful films and gave people a lot of pleasure.' 'Do you ever wish you hadn't done it?' asked Lawley. 'No, never,' said Andrews. 'I must be truthful although I do giggle and there is an awful lot of teasing in the family about my image and things like that. I don't regret it at all'. How does Julie Andrews feel about her image created by her roles in Mary Poppins and The Sound of Music?</p>	<p>a) She wishes she had never taken those roles.</p>	<p>b) She doesn't regret it at all.</p>	<p>c) She tries to avoid talking about it.</p>	<p>d) She feels it limited her career.</p>
	<p>62) Complete the sentence by using one of the options given: "It was _____ a wonderful surprise to see my friend at the library".</p>	<p>a) Such.</p>	<p>b) Or.</p>	<p>c) Although.</p>	<p>d) In spite of.</p>
	<p>63) Complete the sentence by using one of the options given: "If Sonia _____ me, I wouldn't have been able to cook dinner for everyone".</p>	<p>a) Aren't helping.</p>	<p>b) Hadn't helped.</p>	<p>c) Doesn't help.</p>	<p>d) Hasn't helped.</p>
	<p>64) If you bite your nails, you _____ damage them.</p>	<p>a) have.</p>	<p>b) did.</p>	<p>c) will.</p>	<p>d) are.</p>
	<p>65) Complete the sentence by using one of the options given: "John is going to have his motorbike _____ by a mechanic".</p>	<p>a) Repairs.</p>	<p>b) Repair.</p>	<p>c) Repaired.</p>	<p>d) Repairing.</p>
	<p>66) Alessandro parte per una gita, con la sua borraccia da un litro, insieme all'amico Maurizio. A inizio gita la borraccia contiene 80cL d'acqua, Alessandro ne beve metà, poi ne aggiunge 60 cL a una fontana. In seguito beve 20cL e cede metà dell'acqua rimasta a Maurizio. Quanta acqua rimane nella borraccia di Alessandro?</p>	<p>a) 40cL</p>	<p>b) 35cL</p>	<p>c) 30cL</p>	<p>d) 45cL</p>
	<p>67) Determinare la media aritmetica del seguente gruppo di numeri: 29; 30; 31; 0; 29; 34</p>	<p>a) 24,9</p>	<p>b) 25</p>	<p>c) 30</p>	<p>d) 25,5</p>










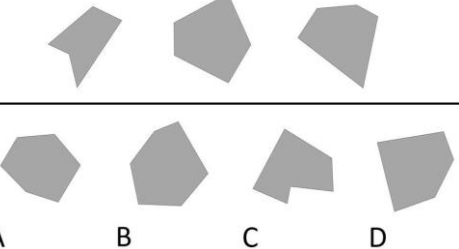
LIBRETTO TIPO 1

	68) L'insieme intersezione dell'insieme dei numeri naturali minori a 10 con l'insieme dei numeri naturali maggiori a 7 è:	a) {7,8,9,10}	b) Vuoto	c) {8,9,10,11}	d) {8,9}
	69) Per raggiungere una destinazione si ha a disposizione il treno o l'aereo o la nave. Nel primo caso, per arrivare a destinazione, alla stazione si può scegliere tra un pullman o il taxi o 3km a piedi. Nel secondo caso all'aeroporto si può noleggiare un'auto o prendere un taxi. Nel terzo caso al porto si può noleggiare un'auto o prendere un taxi. In quanti modi diversi si può giungere a destinazione?	a) 5	b) 3	c) 6	d) 7
	70) Quanti sono i sottoinsiemi di 3 elementi dell'insieme $E = \{X, Y, Z, K, J, L\}$?	a) 18	b) 20	c) 6	d) 10
	71) Quante password diverse di quattro caratteri si possono generare usando solo cifre pari diverse da zero?	a) 5^2	b) 5	c) 4^4	d) 4^3
	72) Tra quali numeri naturali è compresa la radice quadrata di 155?	a) 16 e 17	b) 11 e 12	c) 12 e 13	d) 14 e 15
	73) In una serra le rose rosse superano di 45 unità le rose gialle; sapendo che il rapporto tra rose rosse e rose gialle è $17/12$, calcola il numero di rose di ciascun colore.	a) 145 rosse; 100 gialle	b) 153 rosse; 108 gialle	c) 154 rosse; 109 gialle	d) 100 rosse; 55 gialle
	74) In quale box è contenuto il disegno mancante?  	a) Nel box a.	b) Nel box b.	c) Nel box c.	d) Nel box d.






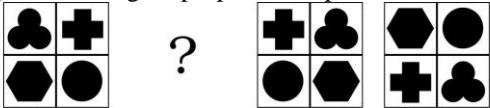




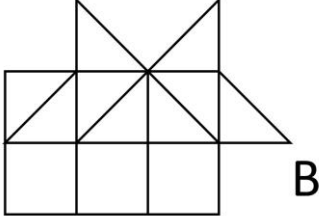
LIBRETTO TIPO 1

	<p>75) Indicare la figura mancante.</p> <div style="display: flex; justify-content: space-around; align-items: center;">  </div> <div style="display: flex; justify-content: space-around; align-items: center; margin-top: 10px;"> <div style="text-align: center;"> A</div> <div style="text-align: center;"> B</div> <div style="text-align: center;"> C</div> <div style="text-align: center;"> D</div> </div>	<p>a) Figura B</p>	<p>b) Figura A</p>	<p>c) Figura D</p>	<p>d) Figura C</p>
	<p>76) Quale delle figure proposte completa la serie?</p> <div style="display: flex; justify-content: space-around; align-items: center;">  </div> <div style="display: flex; justify-content: space-around; align-items: center; margin-top: 10px;"> <div style="text-align: center;">  A </div> <div style="text-align: center;">  B </div> </div> <div style="display: flex; justify-content: space-around; align-items: center; margin-top: 10px;"> <div style="text-align: center;">  C </div> <div style="text-align: center;">  D </div> </div>	<p>a) La figura indicata con la lettera C.</p>	<p>b) La figura indicata con la lettera B.</p>	<p>c) La figura indicata con la lettera D.</p>	<p>d) La figura indicata con la lettera A.</p>
	<p>77) Quale delle figure proposte completa la serie?</p> <div style="display: flex; justify-content: space-around; align-items: center;">  </div> <div style="display: flex; justify-content: space-around; align-items: center; margin-top: 10px;"> <div style="text-align: center;"> A</div> <div style="text-align: center;"> B</div> <div style="text-align: center;"> C</div> <div style="text-align: center;"> D</div> </div>	<p>a) La figura indicata con la lettera C.</p>	<p>b) La figura indicata con la lettera D.</p>	<p>c) La figura indicata con la lettera B.</p>	<p>d) La figura indicata con la lettera A.</p>


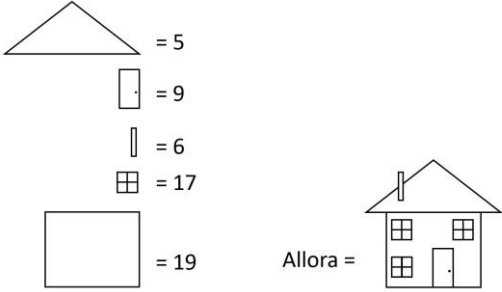






LIBRETTO TIPO 1

	<p>78) Quale delle figure proposte completa la serie?</p> <div style="text-align: center;">  </div> <hr style="border: 1px solid black;"/> <div style="display: flex; justify-content: space-around; align-items: flex-start;"> <div style="text-align: center;">  A </div> <div style="text-align: center;">  B </div> <div style="text-align: center;">  C </div> <div style="text-align: center;">  D </div> </div>	<p>a) La figura indicata con la lettera D.</p>	<p>b) La figura indicata con la lettera A.</p>	<p>c) La figura indicata con la lettera C.</p>	<p>d) La figura indicata con la lettera B.</p>
	<p>79) Quale elemento può essere logicamente inserito nel disegno a lato?</p> <div style="text-align: center;">  </div>	<p>a) Elemento c</p>	<p>b) Elemento a</p>	<p>c) Elemento b</p>	<p>d) Elemento d</p>
	<p>80) Indicare quale figura fa parte del gruppo.</p> <div style="text-align: center;">  </div>	<p>a) La figura indicata con la lettera D.</p>	<p>b) La figura indicata con la lettera A.</p>	<p>c) La figura indicata con la lettera B.</p>	<p>d) La figura indicata con la lettera C.</p>



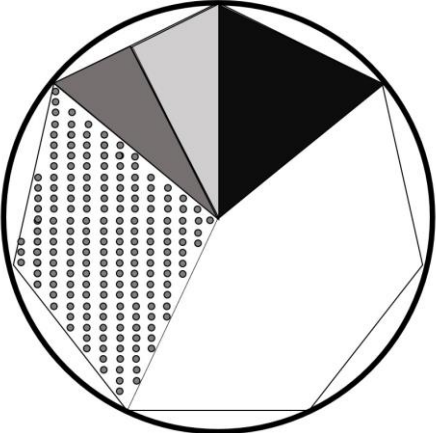
LIBRETTO TIPO 1

	<p>81) Indicare quali elementi possono essere logicamente inseriti.</p> <p>I </p> <p>II </p> <p></p> <p style="text-align: center;">A B C D E</p>	<p>a) Gli elementi A e C.</p>	<p>b) Gli elementi A e D.</p>	<p>c) Gli elementi B e D.</p>	<p>d) Gli elementi B e E.</p>
	<p>82) Quale delle figure proposte completa la serie?</p> <p></p> <hr style="border: 1px solid black;"/> <p></p> <p style="text-align: center;">A B C D</p>	<p>a) La figura indicata con la lettera B.</p>	<p>b) La figura indicata con la lettera A.</p>	<p>c) La figura indicata con la lettera D.</p>	<p>d) La figura indicata con la lettera C.</p>
	<p>83) Se il numero 138 viene scritto sotto a 519, il numero 501 viene scritto sopra a 519, allora in diagonale si può leggere:</p>	<p>a) 518.</p>	<p>b) 981.</p>	<p>c) 195.</p>	<p>d) 230.</p>
	<p>84) Se l'area di "A" vale 2, l'area di "B" vale:</p> <p></p> <p style="text-align: center;">A</p> <p></p> <p style="text-align: right;">B</p>	<p>a) 28.</p>	<p>b) 30.</p>	<p>c) 32.</p>	<p>d) 24.</p>


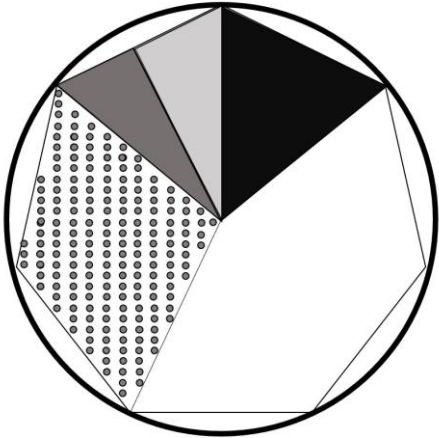

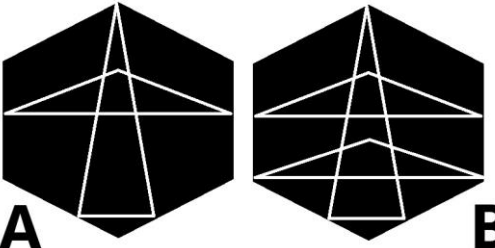
LIBRETTO TIPO 1

	<p>85) Dati i valori delle varie componenti, quanto vale l'intero?</p> 	<p>a) 94.</p>	<p>b) 90.</p>	<p>c) 92.</p>	<p>d) 96.</p>
	<p>86) Quale frazione del rettangolo è quadrettata?</p> 	<p>a) 2/4.</p>	<p>b) 1/4.</p>	<p>c) 3/4.</p>	<p>d) 1/8.</p>
	<p>87) Quale frazione del rettangolo è quadrettata?</p> 	<p>a) 7/16.</p>	<p>b) 5/16.</p>	<p>c) 3/8.</p>	<p>d) 2/8.</p>
	<p>88) Quale frazione del rettangolo è quadrettata?</p> 	<p>a) 1/16.</p>	<p>b) 1/2.</p>	<p>c) 1/8.</p>	<p>d) 5/16.</p>

































































































































LIBRETTO TIPO 1

	<p>89) Sapendo che ogni volta che un cuoricino nero compare davanti ad una forma il suo valore va moltiplicato per due, risolvere l'espressione proposta.</p> $\bigcirc \times \heartsuit \triangle + \square =$ $\bigcirc = 2$ $\square = 6$ $\triangle = 12$	<p>a) 34.</p>	<p>b) 40.</p>	<p>c) 54.</p>	<p>d) 38.</p>
	<p>90) Se la superficie totale dell'ottagono vale 147 cmq, quanto vale la superficie nera?</p> 	<p>a) 31 cmq.</p>	<p>b) 22 cmq.</p>	<p>c) 21 cmq.</p>	<p>d) 23 cmq.</p>




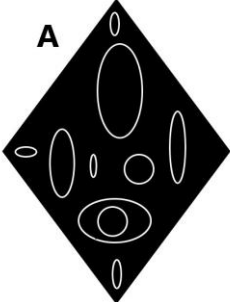
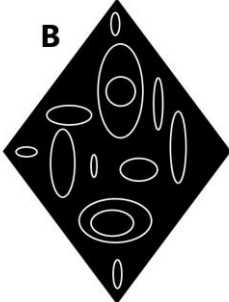


LIBRETTO TIPO 1

	<p>91) Se la somma tra la superficie dell'ettagono colorata di grigio chiaro e lo spicchio bianco vale 140 cmq, quanto vale la superficie puntinata?</p> 	<p>a) 66 cmq.</p>	<p>b) 70 cmq.</p>	<p>c) 54 cmq.</p>	<p>d) 80 cmq.</p>
	<p>92) Quante sezioni in più contiene l'esagono B rispetto all'esagono A?</p>  <p style="text-align: center;">A B</p>	<p>a) 6.</p>	<p>b) 4.</p>	<p>c) 5.</p>	<p>d) 7.</p>

LIBRETTO TIPO 1

	<p>93) Quante figure uguali a quella del box "1" sono presenti nelle due tabelle? Quante figure uguali a quella del box "3" sono contenute rispettivamente nella Tabella 1 e nella Tabella 2?</p> <div style="border: 1px solid black; padding: 5px; margin-bottom: 10px;"> <p style="text-align: center;">Tabella 1</p> <table border="1" style="width: 100%; text-align: center;"> <tr> <td></td><td></td><td></td><td></td><td></td><td></td><td></td><td></td><td></td> </tr> <tr> <td></td><td></td><td></td><td></td><td></td><td></td><td></td><td></td><td></td> </tr> <tr> <td></td><td></td><td></td><td></td><td></td><td></td><td></td><td></td><td></td> </tr> </table> </div> <div style="border: 1px solid black; padding: 5px; margin-bottom: 10px;"> <p style="text-align: center;">Tabella 2</p> <table border="1" style="width: 100%; text-align: center;"> <tr> <td></td><td></td><td></td><td></td><td></td><td></td><td></td><td></td><td></td> </tr> <tr> <td></td><td></td><td></td><td></td><td></td><td></td><td></td><td></td><td></td> </tr> <tr> <td></td><td></td><td></td><td></td><td></td><td></td><td></td><td></td><td></td> </tr> </table> </div> <div style="margin-bottom: 10px;"> <p style="text-align: center;">1 2 3 4</p> <table border="1" style="width: 100%; text-align: center;"> <tr> <td></td><td></td><td></td><td></td> </tr> </table> </div>																																																											<p>a) 14. Nella Tabella 1 "4", nella Tabella 2 "7".</p>	<p>b) 14. Nella Tabella 1 "4", nella Tabella 2 "6".</p>	<p>c) 13. Nella Tabella 1 "4", nella Tabella 2 "7".</p>	<p>d) 14. Nella Tabella 1 "3", nella Tabella 2 "7".</p>
																																																															
																																																															
																																																															
																																																															
																																																															
																																																															
																																																															
	<p>94) Quale tra i pezzi presentati si incastra perfettamente con il pezzo proposto?</p> <div style="text-align: center; margin-top: 20px;">  <div style="display: flex; justify-content: space-around; margin-top: 10px;"> <div style="text-align: center;">  A </div> <div style="text-align: center;">  B </div> </div> <div style="display: flex; justify-content: space-around; margin-top: 10px;"> <div style="text-align: center;">  C </div> <div style="text-align: center;">  D </div> </div> </div>	<p>a) Il pezzo A.</p>	<p>b) Il pezzo B.</p>	<p>c) Il pezzo C.</p>	<p>d) Il pezzo D.</p>																																																										
	<p>95) Se dalla seguente stringa 'DGOVIUVAOEBCAEMILVOHTNNAIVDANZTUUAEEOVAEINDDURDFU' vengono tolte le lettere occorrenti per scrivere 3 volte la frase 'NUOVA IDEA', quali lettere in ordine rimangono?</p>	<p>a) GUCULHTUUTEOVAEI NDURDFU.</p>	<p>b) GBCNLHTVZNEOVAEI NDURDFU.</p>	<p>c) GBCMLHTVZTEOVAEI NDURDFU.</p>	<p>d) GBCMLHTVZMEOVAEI NDMMDFU.</p>																																																										

LIBRETTO TIPO 1

	96) In quale tra le seguenti sequenze di caratteri è presente almeno tre volte la seguente stringa "TYMMYCHX"?	a) VMKGXALQHYWWTY MMYCHXVWXUEVTY MMYCHXFYYTMYLRX PWRTDYXVCBPYMPM TUAMNSZUGRYHURLK D.	b) MVMWQVTYMMYCHX NHXYRTYMMYCHXSH NRXMMUQRMXYMM YCHXUYRLLXAGZEZ GSWSRNZVEWBECHTT .	c) TQFXYHWFYFDZBRRVY DUBTDPKPURYSBUYB KEQZKKESQCDVXFME ZUUUZPSVCSRUXVRBS FEWSAWTYCZ.	d) VPLPBHHSTVRBLEXQ RKQSXCPVPFTYMMYC HXAPUSKXHVFCAFQW FAETQCDZEGNFWAAK CQTZLSSYABX.
	97) In quale dei seguenti gruppi il numero 2 non segue immediatamente il segno \ e il numero 8 non precede immediatamente il 3?	a) 3383\8\8\32\2\8822833\22.	b) 2238\32\28\8\32\2\88833\3.	c) \883\8\32\222833\338\32\2.	d) 8\3\382\8\32\882238\32\8.
	98) Quanti cerchi in più sono rappresentati in figura A rispetto alla figura B? <div style="display: flex; justify-content: space-around; align-items: center;"> <div style="text-align: center;"> A  </div> <div style="text-align: center;"> B  </div> </div>	a) 6.	b) 0.	c) 1.	d) 3.
	99) In quale dei seguenti gruppi la] non precede immediatamente la L e la lettera M non segue immediatamente la B?	a) BL]ML]ML]ML]LBBL]B] BLBBM]M]MMBLMM.	b) L]ML]M]L]ML]MLBBL]B] BLBB]M]MBMLMM.	c) L]BM]ML]BL]MLBB]LB] BLBB]M]MMBLMM.	d) L]ML]ML]BL]MLBBL]B] BLBB]M]MMBLMM.
	100) In quale sequenza la cifra "9" è più numerosa della cifra "6"?	a) 739236655106968898	b) 274268839639564660	c) 994668810219989100	d) 864423630799966646

LIBRETTO TIPO 1

